

Ôn luyện Toán

1. Tính:

$$\begin{array}{r} 15 \\ - 5 \\ \hline \end{array}$$

$$\begin{array}{r} 16 \\ + 3 \\ \hline \end{array}$$

$$\begin{array}{r} 12 \\ + 7 \\ \hline \end{array}$$

$$\begin{array}{r} 19 \\ - 9 \\ \hline \end{array}$$

$$\begin{array}{r} 18 \\ - 5 \\ \hline \end{array}$$

$$\begin{array}{r} 14 \\ - 4 \\ \hline \end{array}$$

.....

.....

.....

.....

.....

.....

2. Tính nhẩm:

$10 + 5 = \dots\dots$

$10 + 2 = \dots\dots$

$15 - 2 = \dots\dots$

$15 - 3 = \dots\dots$

$16 + 1 = \dots\dots$

$18 + 1 = \dots\dots$

$10 + 7 = \dots\dots$

$19 + 0 = \dots\dots$

$11 + 4 = \dots\dots$

3. >, <, = ?

$13 - 3 \quad \square \quad 9$

$10 \quad \square \quad 19 - 9$

$16 - 6 \quad \square \quad 12$

$11 - 1 \quad \square \quad 18 - 5$

4. Viết phép tính thích hợp:

Có : 14 quạt máy

Đã bán: 4 quạt máy

Còn : quạt máy?

--	--	--	--	--

5. Số:

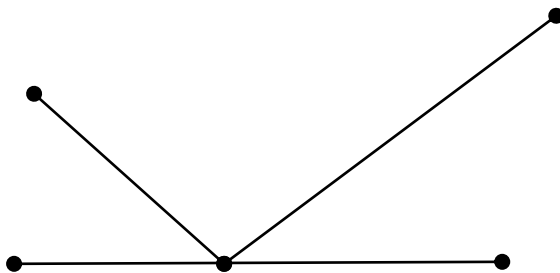
$16 - \square = 12$

$\square - 5 = 14$

$12 + \square = 14$

$\square + 3 = 18$

6. Hình dưới có số đoạn thẳng là:.....



Ôn luyện Toán

1. Đặt tính rồi tính:

$12 + 3$

$17 - 2$

$14 + 4$

$18 - 6$

.....

.....

.....

.....

.....

.....

.....

.....

.....

.....

.....

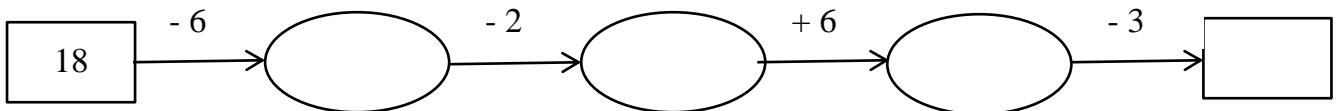

.....

2. Viết các số **13, 8, 19, 5, 17, 20** theo thứ tự:

a) Từ bé đến lớn:

b) Từ lớn đến bé:

3. Số?



4. Nối các phép tính có kết quả bằng nhau:

$15 + 2$

$19 - 9$

$17 - 3$

$10 + 6$

$18 - 6$

$8 + 2$

$11 + 5$

$11 + 1$

$19 - 2$

$19 - 5$

5. Viết phép tính thích hợp:

Có : 12 bạn

Thêm : 7 bạn

Có tất cả: bạn?

--	--	--	--	--

Ôn luyện Toán

Khoanh vào chữ đặt trước đáp án đúng (câu 1, 2):

1. Số 15 đọc là:

- A. mười năm B. mười lăm C. một năm

2. Số nào dưới đây lớn hơn 18?

- A, 19 B. 16 C. 10

3. Số?

Số liền trước	Số đã cho	Số liền sau
	11	
	18	
	19	
	15	


4.a) Viết các số từ 10 đến 20:

.....

b) Viết các số từ 20 đến 10:

.....

5. Viết số thích hợp vào chỗ chấm để có bài toán:



Bài toán: Em có sách, mẹ cho thêm sách. Hỏi em có tất cả bao nhiêu sách?

Ôn luyện Toán

1. Số:

$10 + \dots = 17$

$16 - \dots = 13$

$14 + 3 = \dots$

$17 - 4 - \dots = 11$

$\dots + 3 = 17$

$15 - 3 = \dots$

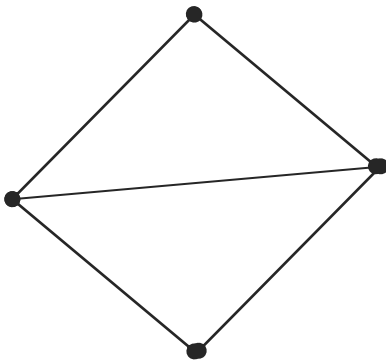
$\dots - 5 = 12$

$15 + \dots - 7 = 10$

2. Điền các số sau vào bảng theo mẫu: **13; 15; 11; 20; 12; 19**

Số	Chục	Đơn vị	Đọc số
13	1	3	Mười ba

3. Trong hình dưới đây có:



..... điểm

..... đoạn thẳng

..... hình tam giác








4. Viết tiếp câu hỏi để có bài toán:



Bài toán: Có 1 lợn mẹ và 4 lợn con. Hỏi

Thứ sáu, ngày 28 tháng 2 năm 2020

PHẦN THƯỞNG: VỪA HỌC VỪA CHƠI



Bunny

Các em tìm, viết tên các con vật rồi tô màu cho thật đẹp các con vật đó.

CÁC EM LÀM BÀI TỐT NHÉ! - CÔ PHƯƠNG